


社會科共 50 題，請小心作答！

歷史科：每題 2 分

1. 啟蒙運動是對西方影響劇烈的一場思想運動，受科學革命的影響，人們開始思考透過理性建構政治及社會制度，主張自由、平等及人道等世界觀，出現許多提倡自由人權的觀念。下列哪一史事受啟蒙運動思想的啟發「較無」直接關係？(A) 法國大革命 (B) 美國獨立革命 (C) 日耳曼建國運動 (D) 拉丁美洲獨立運動。
2. 下圖為 1899 年名為 The Filipino's First Bath 的政治漫畫，畫中美國總統麥金利手捧菲律賓嬰孩說：「喔！你這個髒小子！」並準備為他刷洗，最後菲律賓小孩會如同漫畫後方的古巴、波多黎各小孩一樣，換上美國新衣服。此漫畫的出現應與當時西方盛行何種思想有關？(A) 共產主義 (B) 民族主義 (C) 門羅主義 (D) 社會達爾文主義。

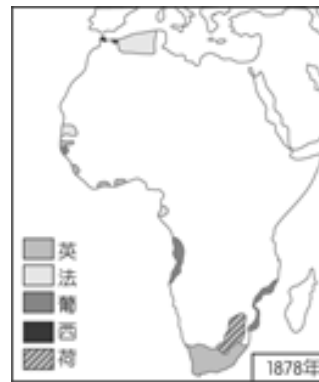


3. 造成數十萬人傷亡及經濟龐大損失的俄烏戰爭迄今已超過三年，美國總統川普也對雙方發出最後通牒，試圖調停戰爭。俄烏戰爭起因為烏克蘭試圖加入某一冷戰時期反共陣營的軍事組織，俄羅斯總統普丁聲稱此舉會威脅俄羅斯的國防安全，故而採取「特別軍事行動」入侵烏克蘭。請問下列何者應是烏克蘭欲參加的組織？(A) 北大西洋公約組織 (B) 華沙公約組織 (C) 國際聯盟 (D) 聯合國。
4. 下方左圖是獨立宣言發表時使用的旗幟，其適用地區位於下方右圖何處？(A) 甲 (B) 乙 (C) 丙 (D) 丁。

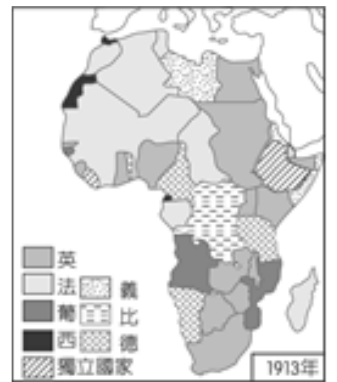


5. 西元 1946 年 3 月 5 日，英國前首相邱吉爾到美國西敏公學 (Westminster School) 演講時說：「從波羅的海到亞得里亞海，橫貫歐洲大陸的『鐵幕』已經拉下，『鐵幕』後面坐落著中歐、東歐等古老國家的首都，華沙、柏林、布拉格、布達佩斯...這些都市和人口全都位於蘇聯勢力範圍內，而且愈來愈受莫斯科所控制。」上述『鐵幕』現象的形成與哪一會議有關？(A) 國民會議 (B) 開羅會議 (C) 維也納會議 (D) 雅爾達會議。

6. 下列關於「美國獨立革命」與「法國大革命」的比較，何者「正確」？
  - (A) 兩者皆獲得歐洲其他國家的援助而成功
  - (B) 革命成功後均建立永久的民主共和體制
  - (C) 前者起因為徵收新稅，後者因稅賦不公所致
  - (D) 前者以獨立宣言，後者以人權宣言發表的時間為國慶日。
7. 下列何者是非洲由圖(一)演變成圖(二)的原因？
  - (A) 門羅宣言
  - (B) 帝國主義
  - (C) 民族自決
  - (D) 孤立主義。



圖(一)



圖(二)

8. 附圖描繪十九世紀某位政治人物的事蹟。此人主導外交策略，將國家統一的問題帶到國際議場，引發歐洲各國對義大利民族主義的同情與支持，被譽為「神為義大利統一所駕馭的人」。此人為下列何者？
  - (A) 馬志尼
  - (B) 加富爾
  - (C) 加里波底
  - (D) 墨索里尼。



9. 下表是四個歐洲國家參加第一次世界大戰的原因，根據表中內容判斷，哪些屬於「同盟國」陣營？
  - (A) 甲乙
  - (B) 丙丁
  - (C) 甲丁
  - (D) 乙丙。

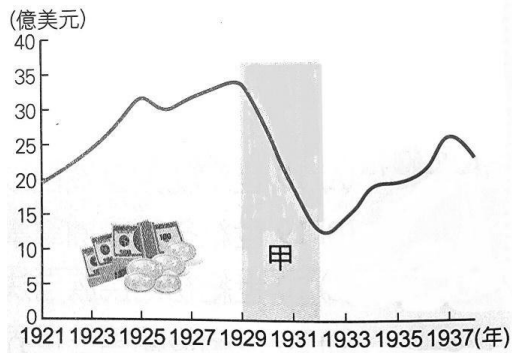
國家	戰爭爆發後的反應
甲	因皇位繼承人遭暗殺，首先向 <u>塞爾維亞</u> 宣戰。
乙	為支持 <u>大日耳曼</u> 民族，同時向 <u>法國</u> 和 <u>俄國</u> 宣戰。
丙	為支持 <u>斯拉夫</u> 小兄弟，全面動員軍隊對付 <u>奧匈帝國</u> 。
丁	只要我背棄戰前結盟國，戰後便可參與分配戰敗國的領土及殖民地。

試題尚未結束  
請翻面繼續作答

10. 附圖為二次世界大戰後，隸屬某一國際組織的軍事部隊資訊。此部隊僅配備自衛和維持秩序的簡單武器，但任務範圍廣泛，從軍事作戰至民事作戰均包含在內。以下關於此軍事部隊的敘述，何者「錯誤」？ (A) 隸屬於安全理事會 (B) 常任理事國得行使否決權 (C) 曾參與韓戰與越戰 (D) 為解決國聯缺乏武力的弱點而設置。

United Nations Peacekeeping	
時間	1948 至今
種類	多國防禦性部隊
別稱	藍盔部隊、藍盾
格言	世界和平
功能	陸海空特別行動 維和任務

11. 附圖為戰間期世界出口貿易總額估算值的曲線圖。根據內容判斷，下列何者是造成「甲」時期數據變化的主因？ (A) 德國實施無限制潛艇政策擊沉大量商船 (B) 以阿衝突引發能源危機造成全球經濟衰退 (C) 德義日三國發動侵略戰爭導致各國生產力下降 (D) 歐美各國提高關稅以保護國內產業的發展。

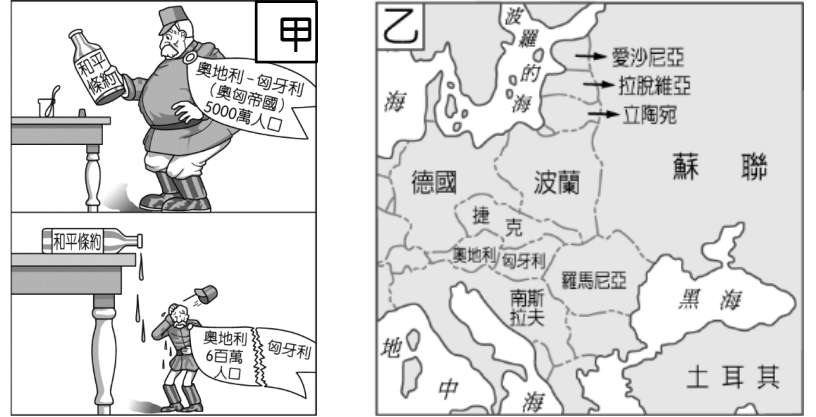


12. 下圖是 1890 年俾斯麥辭去首相時，某英國雜誌刊載的政治漫畫，意指「德意志皇帝坐視俾斯麥辭職，如同船東任由船隻的領航員離去。」俾斯麥因完成下列哪一成就而被形容為船隻的領航員？ (A) 建立關稅同盟，奠定日耳曼統一的經濟基礎 (B) 領導普魯士先後擊敗奧國與法國，建立德意志帝國 (C) 領導反共的納粹黨透過選舉取得政權，從事經濟建設提升國力 (D) 主導維也納會議，維持歐洲各國勢力均衡。




13. 2015 年 6 月，比利時舉辦為期 4 天的滑鐵盧戰役紀念活動，讓約五千名身著兩百年前軍服的演員，搭配當時的武器、戰馬及大砲，重現兩百年前一位法國將領在此地被英國、荷蘭、普魯士聯軍擊敗的歷史場景。關於這位被擊敗的法國將領，下列何者「非」其事蹟？ (A) 處死路易十六後稱帝，將共和體制改為法蘭西帝國 (B) 給予玻利瓦推動拉丁美洲各國獨立的契機 (C) 激發日耳曼與義大利地區人民的民族意識 (D) 傳播法國大革命「自由、平等、博愛」的精神。

14. 附圖甲、乙為奧匈帝國在某戰爭結束後，因被迫簽署和約而產生的領土變化。下列關於此事件的說明，何者「錯誤」？ (A) 發生於第一次世界大戰結束後 (B) 因簽署凡爾賽條約所致 (C) 圖乙的政治新局勢與巴黎和會有關 (D) 俄羅斯帝國與鄂圖曼帝國亦有相同處遇。



15. 十九世紀以來，美國總統的決策往往在全球有舉足輕重的影響力，以下四位美國總統的事蹟，何者「正確」？ (A) 華盛頓：帶領美國人民參與第二次世界大戰 (B) 門羅：提出十四點原則作為處理一戰後事務的依據 (C) 威爾遜：主張孤立主義，拒絕加入國際聯盟 (D) 羅斯福：推動「新政」措施，使受經濟大恐慌打擊的美國經濟逐漸復甦。
16. 第二次世界大戰歐洲戰場爆發後，某位美國總統說：「過去兩年的經驗已無可懷疑的證明，任何國家都不能姑息納粹，任何都不可能靠撫摸來把老虎馴服成小貓。……波蘭要求英、法採取聯合行動來制止戰爭……但英、法不僅沒有動員地面部隊發動攻勢，連海、空軍也按兵不動，導致波蘭陷入孤軍奮戰。」下列關於上文的解讀，何者「錯誤」？ (A) 發言者為美國總統羅斯福 (B) 認為英、法簽訂慕尼黑協定犧牲捷克的不智 (C) 試圖馴服成小貓的老虎是指史達林 (D) 波蘭陷入孤軍奮戰導因於德蘇互不侵犯條約的簽訂。
17. 附圖為 1991 年美國報刊的諷刺漫畫，在「共產主義的天堂」中，馬克思、列寧、史達林看著戈巴契夫帶領送葬隊伍，走向「共產主義的墳墓」。以下關於四位歷史人物的敘述，何者「正確」？ (A) 馬克思提倡公有財產，發動二月革命推翻沙皇尼古拉二世 (B) 列寧領導布爾什維克黨發動十月革命，建立蘇聯後退出一次大戰 (C) 成立「共產國際」的史達林推行「計畫經濟」，使蘇聯成為工業強國 (D) 戈巴契夫推動政治民主與經濟改革，最後導致蘇聯解體。



試題尚未結束  
請換頁繼續作答

地理科：(每題 2 分)

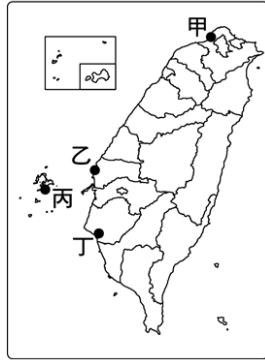
(一)單題：

18. 臺灣有許多地名與甘蔗製糖的舊式製糖廠「糖廍」有關，如「廍子」、「廍後仔」……等。由臺灣甘蔗分布的地理環境來推論，下列哪一地區會出現最多這類的地名？

- (A)臺北盆地 (B)林口台地  
(C)嘉南平原 (D)新竹丘陵。

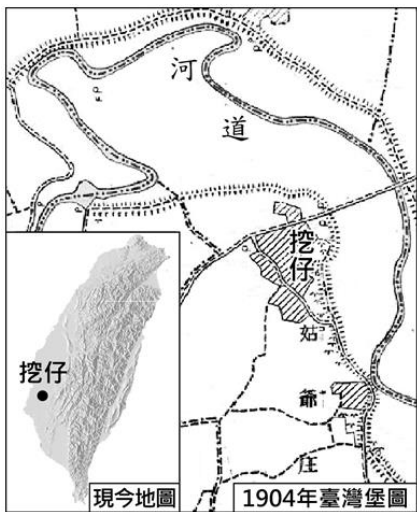
19. 17 世紀時，在臺的漢人多以「大員」、「台員」、「大灣」、「臺灣」稱呼臺灣的某地區，此地應位於右圖中的哪一地區？

- (A)甲 (B)乙 (C)丙 (D)丁。



20. 下圖是某行政區內名為挖仔的聚落地圖。根據該聚落所處環境特色判斷，其地名代表的意義最可能為下列何者？

- (A)位於岬灣海岸的灣澳  
(B)鄰近溪流河道轉彎處  
(C)位處高山之間的小谷地  
(D)台地上的低窪地蓄水成湖。



21. 在觀賞環保教育紀錄片後，哲勳愈來愈重視友善環境飲食、低碳飲食，希望能減少加工食品對環境帶來的負擔。下列哪一種作法「較不符合」上述精神？

- (A)多食用國外進口的高貴食材  
(B)選擇強調產地到餐桌的餐廳  
(C)盡量採買當季生產的農產品  
(D)購買之前先參考碳足跡標籤。

22. 臺灣的地名有許多是以地形特徵來命名，如：高起的小山丘或沙丘稱為「崙」。雲林縣崙背鄉的先民為躲避暴風及洪水，選擇地勢較高的沙丘偏南地區定居，後來人口增加，便以此沙丘為界，稱沙丘南面地帶的部落為「崙前」，沙丘北面村莊為「崙背」。這些沙丘的出現，與何種地形作用力最為相關？

- (A)火山噴發 (B)河流侵蝕  
(C)冰河侵蝕 (D)風力堆積。

23. 右圖為某種標誌，此標籤的出現應與下列哪一原因有關？

- (A)降低身體健康的負擔  
(B)減緩全球暖化的速度  
(C)增加國際貿易的規模  
(D)增加貨物運送的距離。



24. 臺灣歷經數個不同政權治理，鄉鎮市區的名稱因而相當多元。下列何者在日治時期被改為和日語發音相近的漢字？(A)高雄 (B)新營 (C)蔦松 (D)澎湖。

25. 位於臺南的工廠老闆想在農曆年前送禮給員工，為了守護地球，老闆特別要求採購能夠減少食物里程的水果禮盒。下列哪個產地的水果，最能符合公司老闆的需求？

- (A)日本青森的蘋果 (B)臺中東勢的水梨  
(C)高雄燕巢的芭樂 (D)苗栗大湖的草莓。

26. 「埔」本身指荒野的平地，結合不同名詞或形容詞，可以反映所在的位置或環境特性。根據地名用字的意義，下列哪個行政區名的由來，最可能與濱海地帶有關？

- (A)屏東縣內埔鄉 (B)彰化縣埔鹽鄉  
(C)新竹縣北埔鄉 (D)嘉義縣中埔鄉。

27. 在緯度較高的歐洲，部分人士認為飲用咖啡對環境並不友善，會對生態造成極大負擔。下列哪個敘述最能支持此一觀點？

- (A)種植咖啡樹必須砍伐大片溫帶森林  
(B)咖啡多為跨國運送，食物里程較長  
(C)種植國家收入高，造成不公平貿易  
(D)咖啡全為基改作物，會降低生物多樣性。

28. 食品安全是民眾十分關注的生活議題之一，對食材的來源、生產等過程，想要有更多的了解。「農產品產銷履歷驗證制度」的推動，正可滿足消費者的需求。下列何者是「產銷履歷驗證」實施後，最希望達到的目的？

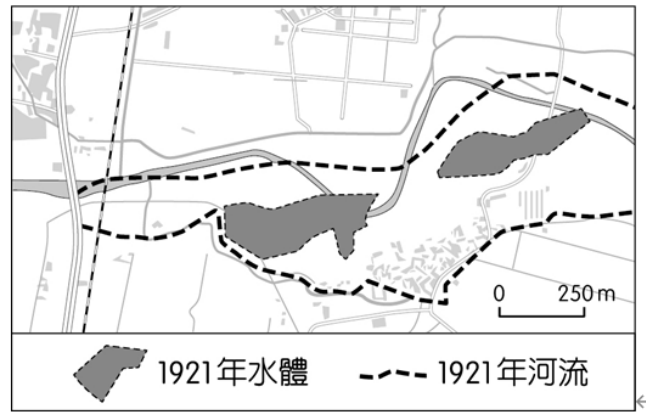
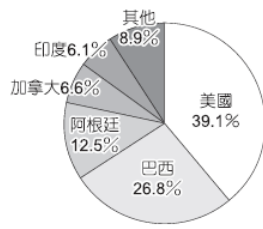
- (A)降低農業的生產成本  
(B)保障零售商獲得合理收入  
(C)建立完善的食品安全制度  
(D)增加產地與消費地之間的距離。

29. 舊稱半線，原為平埔族巴布薩族半線社原居地。清帝國時期以「彰顯皇朝教化」而改名。下列哪一縣市的地名也是因清帝國時期賜名而沿用至今？

- (A)臺北 (B)嘉義  
(C)南投 (D)高雄。

試題尚未結束  
請翻面繼續作答

30. 自 1996 年美國首次開放商業化種植基改作物以來，世界各地種植面積逐年上升。右圖為開放種植基改作物的主要國家，這些國家多集中在哪一地區？  
 (A) 亞洲 (B) 非洲 (C) 歐洲  
 (D) 美洲。



圖(三)

(二)題組：

※右圖為以某一地名用詞來命名的聚落分布圖，試回答 31-32 題：



31. 根據這些聚落的分布推測，此地名最可能為下列何者？

- (A) 嶼 (B) 埔  
 (C) 崙 (D) 厝。

32. 承上題，此地名用詞應為哪一族群的常用詞？

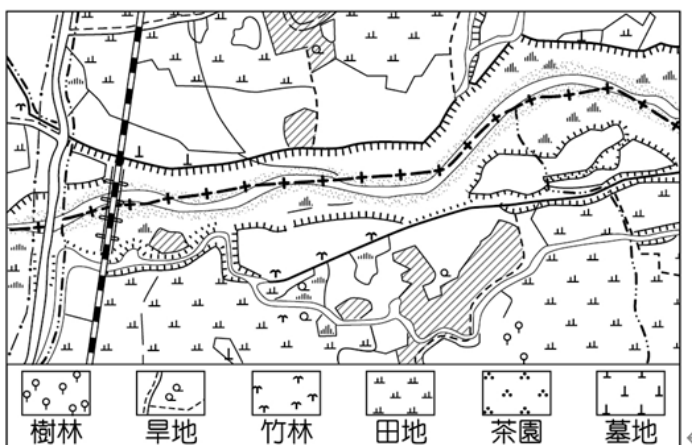
- (A) 閩南人 (B) 日本人 (C) 客家人 (D) 原住民族。

※臺灣和地形有關的地名，多是古人依照當時的地理環境所命名，隨著時間變化，原先的山丘、河或湖可能會變遷甚至消失，僅剩下地名而已。因此，透過地名可推估過去的地景樣貌，例如「墘」字代表位於某一地物或水體的旁邊，如厝墘、田墘、港墘與溪墘等，圖(一)為「墘」字地名的分布圖。小瑜家鄉地名也有「墘」字，雖然現今已經



圖(一)

看不到當時的地貌；為了印證上述命名原則，她找到 1921 年日治時期家鄉的地圖(圖二)，並將當時的河流及水體標示在現今的電子地圖(圖三)上，發現與上述原則是一致的。試回答 33-34 題：



圖(二)

33. 根據圖(一)中「墘」字地名的分布判斷，下列關於「墘」字地名的推論何者最為合理？

- (A) 分布於閩南族群集中區，屬閩南族系的地名  
 (B) 分布於客家族群集中區，屬客家族系的地名  
 (C) 分布於現今原住民居住地，為原住民的地名  
 (D) 受西班牙占領影響，為西班牙語音譯的地名。

34. 根據圖(二)判斷，在日治時期小瑜的家鄉最可能以哪種產業活動為主？

- (A) 海鹽晒製 (B) 樟腦提煉  
 (C) 茶葉種植 (D) 水稻耕作。

試題尚未結束  
 請翻面繼續作答

【公民科】每題 2 分

35. 新聞標題寫著：「麥當勞300元套餐只要49元好便宜！一刷變科威特幣，痛失五千新臺幣」。詐騙集團利用AI技術與心理話術，大量製作「一頁式廣告」誘騙民眾。儘管警方與165反詐騙專線每日下架成千上萬則廣告，但在AI輔助下，這類詐騙如蟑螂般難以根除，政府呼籲民眾網路購物時應更加警覺。針對上述現象，下列哪一項敘述最能精確反映其核心議題？
- (A) 跨國貿易中的匯率變動隱含極高的投資風險  
(B) 網路詐騙盛行，凸顯了數位時代個人隱私洩漏的嚴重性  
(C) 科技在帶來生活便利的同時，也引發了新型態犯罪的憂慮  
(D) 資訊科技的普及，使得智慧財產權的創造成果難以被維護。
36. 北太平洋漁業委員會 (NPFC) 2025年會決議，面臨秋刀魚荒，經討論協議後臺灣、日本等9國同意漁獲量額度將比去年減少10%。漁業署對此表示，我國會遵守NPFC所通過之相關養護管理措施，並持續與各會員國合作，以確保北太平洋秋刀魚漁業資源之永續利用。根據上述，下列何者正確？
- (A) 只有國際組織能解決全球問題  
(B) 政治全球化會約束各國的施政  
(C) 公平貿易能解決改善分配不均  
(D) 已開發國家沒有資源分配問題。
37. 關於國際社會的互動方式，下列敘述何者錯誤？
- (A) 國際援助是指基於人權與人道關懷精神，對於開發中國家或受災國家，給予協助  
(B) 國際交流可以透過政府進行各種活動，但民間團體不適合自己進行交流  
(C) 國際衝突是國際間因為各種因素而產生衝突  
(D) 臺灣與紐西蘭簽署《臺紐經濟合作協定》是一種國際合作的互動方式。
38. 公民老師在課堂上分享這則新聞報導：
- 臺大積極捍衛校名，向新北永和一處建案提告！因為有「臺大」兩個字，認為侵害★權，法院判賠一百萬，過去臺北車站也有補習班被告過。臺大在1983年起，陸續註冊多項★，所以在這之後，亂蹭「臺大名號」，小心踩到地雷。東森新聞 2026.02.25
- 關於文中★，涉及違反何種法律？
- (A) 《著作權法》 (B) 《商標法》  
(C) 《專利法》 (D) 《公平交易法》。
39. 承上題，若違反該法，最不可能受到下列何種處分？
- (A) 罰鍰 (B) 拘役  
(C) 賠償損失 (D) 登報道歉。
40. 「美、墨、加三國的汽車產業鏈高度整合，是全球經濟合作的典範。在最終組裝完成前，部分零組件甚至會跨越國境往返多達 7 次。業界普遍認為，若每次跨境都需徵收關稅，將會導致……」。根據上述邏輯，下列哪一個選項最不可能是文末接續的內容？
- (A) 生產成本大幅攀升，降低廠商的製造意願  
(B) 終端售價提高，增加消費者的經濟負擔  
(C) 汽車市場價格調漲，影響產品競爭力  
(D) 廠商在美國設廠的機會成本相對增加
41. 人臉辨識系統的應用從日常的手機解鎖、門禁管理、金融與零售支付到機場的快速通關系統，範疇極廣。然而，人臉辨識技術的發展與應用近年來因隱私權、種族歧視風險以及潛在的安全疑慮，促使多家科技巨頭停止相關業務。在我們享受科技帶來的便利時，同時也產生了隱私和歧視等問題。請問畫底線處所要呈現的是下列何種概念？
- (A) 機會成本 (B) 社會正義  
(C) 正向誘因 (D) 刻板印象。
42. 2026年3月，因主辦國喀麥隆矮化我國籍，核發之旅行授權憑證國籍欄竟以「Taiwan, Province of China」（臺灣，中國一省）列示，嚴重貶抑我國地位。外交部表達強烈譴責，並決定缺席自2002年1月1日加入為會員國後，25年來的首次部長會議，以維護國家尊嚴。根據上述，我國缺席的是下列哪一政府間的國際組織？
- (A) 世界衛生組織  
(B) 世界貿易組織  
(C) 國際刑警組織  
(D) 國際特赦組織。
43. 最近大家都在看什麼 NETFLIX 的韓劇？幾部討論度爆高如：《苦盡柑來遇見你》、《比天堂還美麗》、《惡緣》...。南韓的熱門韓劇席捲亞洲，成為繼美國之後又一文化產品輸出國。除了戲劇本身及演員相關產品熱賣外，劇中角色的食、衣、住、行都引起戲迷們的爭相仿效，創造了驚人的消費商機。上述所描述的社會現象，可說明全球化下所帶來的哪項影響？
- (A) 跨國企業的形成  
(B) 強勢文化的拓展  
(C) 國際貿易的衰退  
(D) 文化衝突的增加。

試題尚未結束  
請翻面繼續作答

臺北市立內湖國民中學 114 學年度 第二學期 九年級 第一次段考 社會科試題 (翰林版)

44. 由於智慧型手機的普及，拍攝影像更為容易，將照片或影片上傳網路空間或社群媒體，造成個人私密影像外流的機會大增，再加上網路的快速傳遞，個人隱私可能受到嚴重侵害。請問為規範上文畫底線處的情況，下列何者屬於政府公權力的作為？
- (A) 要求社群媒體關閉訊息傳遞的功能  
 (B) 限制使用者上傳影像的次數與數量  
 (C) 修訂《刑法》相關規定加以規範  
 (D) 強制所有訊息須通過政府部門審核。
45. 每年 6 月 20 日是「世界難民日」，根據聯合國難民署最新數據 (UNHCR Global Trends 2024)，全球流離失所人口已突破 1.22 億，其中約 4370 萬人是跨國難民。因戰亂、迫害而逃往他國的難民，面臨著嚴峻的生存挑戰。由於收容國資源有限，難民在尋求庇護與工作機會的過程中，不僅要克服經濟困境，更需面對文化隔閡與族群共存的考驗。這反映了人口跨國移動所帶來的多重影響。關於「難民」的相關敘述，下列何者最正確？
- (A) 難民的移動動機與經濟移民相同，主要為了追求更高薪資與生活水準  
 (B) 難民必須先取得收容國的正式居留法令批准，方能跨越國界尋求庇護  
 (C) 難民的湧入可能增加當地勞動力，但也可能排擠原有資源，此為機會成本的體現  
 (D) 難民若未能取得合法身分將成為非法移民，對收容國而言僅會產生負面負擔
46. 全球化發展提高了國與國之間政治、經濟及文化的關連，一個國家發生的事件，其影響範圍往往跨越國界，許多國內議題也可能成為全球關注的議題。下列何種現象與上述發展最不相關？
- (A) 美國總統川普提出關稅政策導致各國提出相關機制來回應  
 (B) 亞洲出現的新型疾病迅速傳播至美洲  
 (C) 美國和以色列攻打伊朗造成國際油價上漲  
 (D) 智利地震引發的海嘯襲擊太平洋西岸。
47. 在臺灣的銀行，民眾可以輕易兌換到美金、日圓、歐元等多國貨幣，反映了各國資金在國際間的自由流動。若從「全球化面向」來看，上述現象與下列哪一個例子屬於相同的面向？
- (A) 臺灣半導體龍頭宣布在美國斥資千億美金設廠，並大量僱用當地技術工程師  
 (B) 耶誕節原本是西方宗教節日，如今在臺灣已成為不分宗教、全民參與的熱門節慶  
 (C) 為了保護本土農業，政府針對進口農產品推動產地標章制度，強化品牌區別  
 (D) 烏俄戰爭導致數百萬難民湧入鄰國，歐洲各國政府共同研議人道安置與邊境管理。

48. 我國雖遭中國打壓，仍以務實多元的外交方式，積極參與國際事務，但不包括下列哪一項作為？
- (A) 遵循世界貿易組織的協議開放農產品進口  
 (B) 出席 2025 年的亞太經濟合作會議部長會議  
 (C) 外交部部長在聯合國大會上發表和平演說  
 (D) 各部會機關爭取舉辦各種國際體育賽事。
49. 第六屆世界棒球經典賽 (WBC) 已於 2026 年 3 月 5 日至 17 日舉行。臺灣 (中華隊) 在 C 組預賽中與日本、韓國、澳洲、捷克同組，比賽地點為東京巨蛋，最終排名第 13 名。本屆賽事最後由委內瑞拉隊在決賽中以 3:2 擊敗美國隊，奪得隊史首座冠軍。上述活動屬於何種國際互動形式？
- (A) 國際交流  
 (B) 國際合作  
 (C) 國際援助  
 (D) 國際衝突。
50. 根據我國法律規定，引用他人著作必須在合理的範圍內，請判斷下列何人的使用不在合理範圍內？

選項	內容
A	網紅拍攝臺北各觀光夜市的小吃並加以介紹，製成影片上傳
B	學生為了完成教授指派的報告，引述知名科學期刊部分內容
C	從圖書館借的一本懸疑小說超級好看，將其中一個章節影印下來收藏
D	老闆下載今年知名韓國偶像團體歌曲，在自營咖啡店內播放

**試題結束**  
**請仔細檢查答案**

臺北市立內湖國中 114 學年度第二學期九年級社會科第一次段考解答 ( 翰林版 )

一、歷史科：34 % ( 1~17 題，每題 2 分 )

1.	2.	3.	4.	5.	6.	7.	8.	9.	10.
<b>C</b>	<b>D</b>	<b>A</b>	<b>A</b>	<b>D</b>	<b>C</b>	<b>B</b>	<b>B</b>	<b>A</b>	<b>C</b>
11.	12.	13.	14.	15.	16.	17.			
<b>D</b>	<b>B</b>	<b>A</b>	<b>B</b>	<b>D</b>	<b>C</b>	<b>D</b>			

二、地理科：34% ( 18~34 題，每題 2 分 )

18.	19.	20.	21.	22.	23.	24.	25.		
<b>C</b>	<b>D</b>	<b>B</b>	<b>A</b>	<b>D</b>	<b>B</b>	<b>A</b>	<b>C</b>		
26.	27.	28.	29.	30.	31.	32.	33.	34.	
<b>B</b>	<b>B</b>	<b>C</b>	<b>B</b>	<b>D</b>	<b>A</b>	<b>C</b>	<b>A</b>	<b>D</b>	

三、公民科：32% ( 35~50 題，每題 2 分 )

35.	36.	37.	38.	39.	40.				
<b>C</b>	<b>B</b>	<b>B</b>	<b>B</b>	<b>A</b>	<b>D</b>				
41.	42.	43.	44.	45.	46.	47.	48.	49.	50.
<b>A</b>	<b>B</b>	<b>B</b>	<b>C</b>	<b>C</b>	<b>D</b>	<b>A</b>	<b>C</b>	<b>A</b>	<b>D</b>